



JUMBO

365 DE JOCURI ȘI
ACTIVITĂȚI DISTRACTIVE




Pentru +6 ani


Potrivește imaginea cu umbra ei.




(A)



(B)



(C)



Colorează desenul în tonuri vii.



Rezolvă operațiile. Scrie răspunsurile în casetele goale.

Creion = 14 Carte = 9 Radieră = 4


$$\text{Creion} - \text{Carte} = \square$$

$$\text{Carte} + \text{Radieră} = \square$$

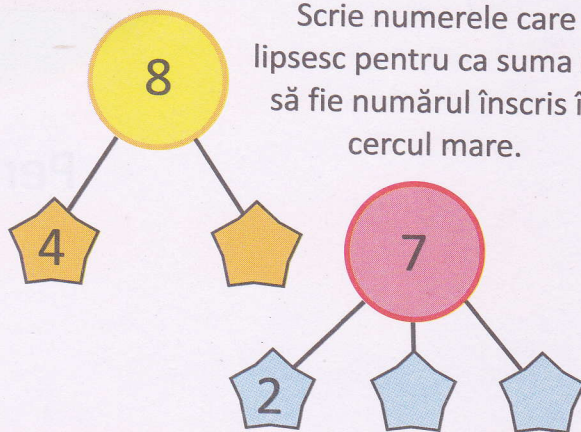
$$\text{Radieră} + \text{Creion} = \square$$

Bifează în casetă cuvântul scris corect.


- | | | |
|-------------------------------|---------------------------------|-------------------------------|
| <input type="checkbox"/> oaie | <input type="checkbox"/> cocuoș | <input type="checkbox"/> vacă |
| <input type="checkbox"/> oae | <input type="checkbox"/> cocoș | <input type="checkbox"/> vak |



Scrie numerele care lipsesc pentru ca suma lor să fie numărul înscris în cercul mare.



Colorează desenul după model.





Poți decodifica denumirea acestor
viețuitoare marine?

macaral

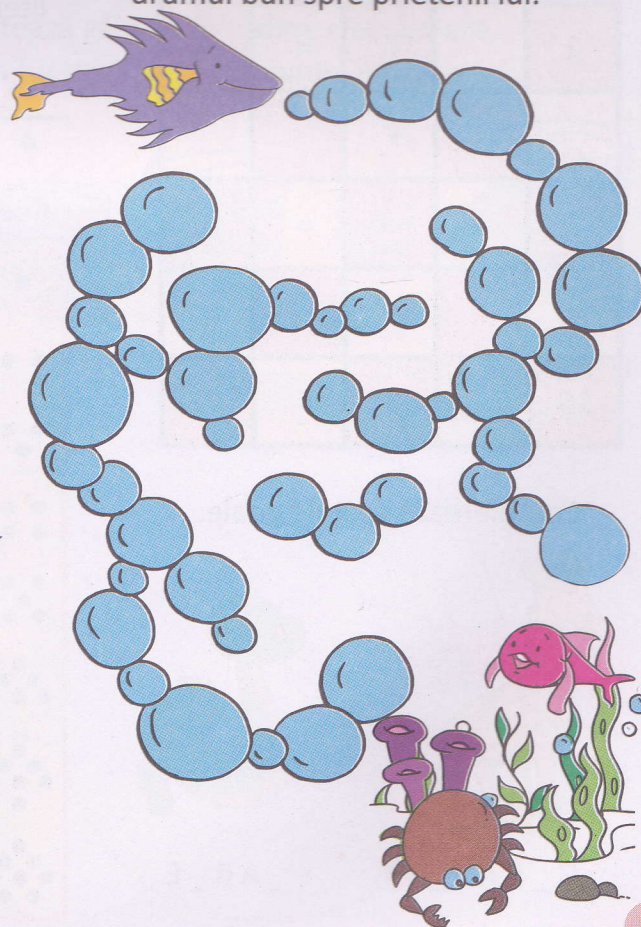
chiner

dar ce lame


infeld



Ajută peștele să găsească
drumul bun spre prietenii lui.



Încercuiește obiectul mai mic din fiecare set.



Pune literele în ordinea corectă pentru a afla denumirea obiectului de mai jos.



M B E U L R Ă


Completează spațiile goale cu numere sau semne pentru a obține rezultate corecte.

2		3	=	5
		+		
5	×		=	10
=				=
10		5	=	15

Completează spațiile goale.



G _ R A F _



_ A R _ E

Ajută viermișorul să ajungă la măr.




Privește cu atenție câte buline sunt în dreptul fiecărei litere, apoi scrie în spațiile de sus litera corespunzătoare fiecărui număr și descifrează cuvântul secret.


4 2 6 3 1 7 8 5

Codul secret

- = A
- = L
- = F
- = E
- = I
- = E
- = N
- = T


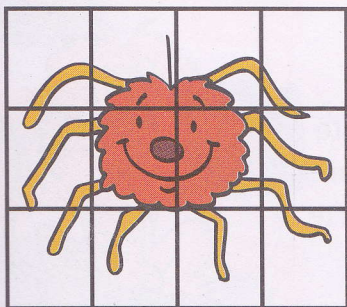


Scrive numărul corect pentru a pune în ordine piesele încurcate.



1


Desenează și colorează desenul dat în spațiul cu pătrățele.



Rezolvă operațiile în spațiul de mai jos.

$27 : 3 =$ $8 + 4 =$
 $5 \times 3 =$
 $3 \times 2 =$ $7 + 3 =$

Numerotează gălețile în ordine crescătoare, în funcție de dimensiunea lor.



Unește punctele și colorează desenul.

